

Rubricas dos professores vigilantes

A PREENCHER PELO ALUNO

Nome completo _____

Documento de identificação  n.º _____

Assinatura do aluno _____

A PREENCHER PELA ESCOLA
 N.º convencional

 N.º convencional

Prova Final de Matemática
Prova 92 | E. Especial | 3.º Ciclo do Ensino Básico | 2018
 9.º Ano de Escolaridade

Decreto-Lei n.º 139/2012, de 5 de julho

A PREENCHER PELO AGRUPAMENTO
 N.º confidencial da escola

A PREENCHER PELO PROFESSOR CLASSIFICADOR

Classificação em percentagem _____ (_____ por cento)

Correspondente ao nível _____ (_____) Data: ____ / ____ / ____ Código do professor classificador _____

Observações _____

Duração da Prova (Caderno 1 + Caderno 2): 90 minutos. | Tolerância: 30 minutos. **Caderno 2:**
 8 Páginas

Caderno 2: 55 minutos. Tolerância: 20 minutos.
 Não é permitido o uso de calculadora.

7. Numa certa atividade, participaram dez alunos, rapazes e raparigas, distribuídos por três equipas, A, B e C, de acordo com a tabela seguinte.

	Equipa A	Equipa B	Equipa C
Rapazes	2	2	1
Raparigas	1	2	2

- 7.1. Sabe-se que, numa destas equipas, ao selecionar ao acaso um dos seus elementos, a probabilidade de o elemento selecionado ser rapariga é 50%.

Identifica essa equipa.

- 7.2. Vão ser selecionados, ao acaso, para capitães de equipa, um elemento da equipa A e um elemento da equipa B.

Qual é a probabilidade de os dois capitães serem ambos rapazes?

Apresenta o resultado na forma de fração irredutível.

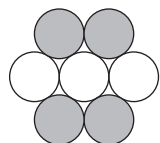
Mostra como chegaste à tua resposta.

Sugestão: Começa por construir uma tabela de dupla entrada ou um diagrama em árvore.

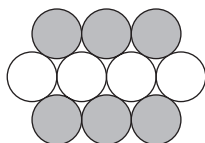
Transporte

A transportar

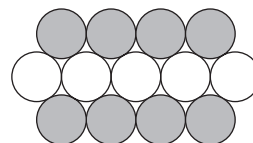
8. Representam-se a seguir os três primeiros termos de uma sucessão de figuras constituídas por círculos geometricamente iguais. Com exceção do primeiro, cada termo da sucessão tem mais um círculo branco e dois círculos cinzentos do que o termo anterior.



1.º termo



2.º termo



3.º termo

Qual das expressões seguintes dá o **número total** de círculos do termo de ordem n da sucessão?

- A $2n + 5$ B $5n + 2$ C $3n + 4$ D $4n + 3$

9. No referencial ortogonal e monométrico, de origem no ponto O , da Figura 7, estão representadas as retas r e s .

A reta r , de equação $y = -2x + 5$, é paralela à reta s .

A reta s passa no ponto de coordenadas $(\frac{3}{2}, 0)$.

Determina uma equação da reta s .

Apresenta a equação na forma $y = ax + b$, sendo a e b números reais.

Mostra como chegaste à tua resposta.

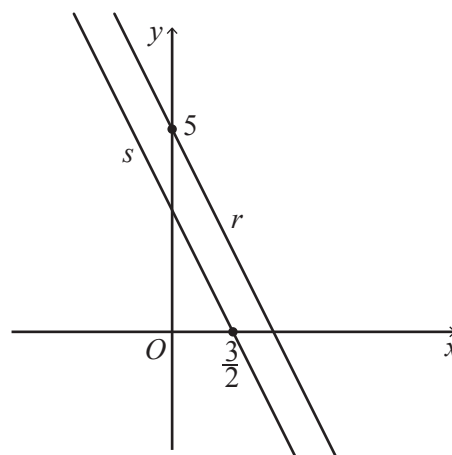


Figura 7

10. Considera a igualdade $(x - 3)^2 = x^2 + mx + n$, em que m e n são números reais.

Para que valores de m e n a igualdade é verdadeira qualquer que seja x ?

- A $m = 6$ e $n = 9$ B $m = -6$ e $n = -9$
 C $m = -6$ e $n = 9$ D $m = 6$ e $n = -9$

11. Resolva a equação seguinte.

$$15x^2 + 2x - 1 = 0$$

Apresenta as soluções na forma de fração irredutível.

Apresenta todos os cálculos que efetuares.

12. Resolva a inequação seguinte.

$$\frac{1-x}{2} < 3(2x-1)$$

Apresenta o conjunto solução na forma de intervalo de números reais.

Apresenta todos os cálculos que efetuares.

13. No referencial cartesiano, de origem no ponto O , da Figura 8, estão representadas a função de proporcionalidade inversa f e a função quadrática g .

Sabe-se que:

- a função f é definida por $f(x) = \frac{6}{x}$, com $x > 0$;
- a função g é dada por uma expressão da forma $g(x) = ax^2$, com $a \neq 0$;
- os gráficos das funções f e g intersectam-se no ponto P , de abcissa 2.

Determina o valor de a .

Apresenta todos os cálculos que efetuares.

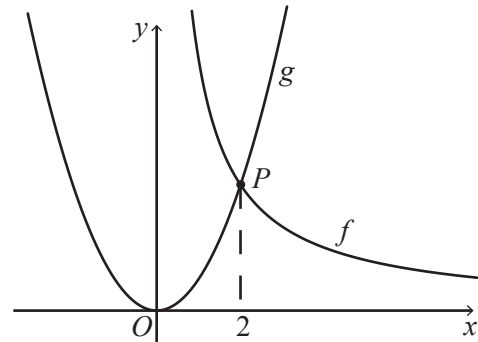


Figura 8

14. Escreve o número $\frac{3^{11}}{3^7} \times 3^{-6}$ na forma de uma potência de base $\frac{1}{3}$.

Apresenta todos os cálculos que efetuares.

15. Numa modalidade do desporto escolar inscreveram-se inicialmente, 45 alunos, rapazes e raparigas.

Passado algum tempo, inscreveram-se mais 4 rapazes e desistiram 4 raparigas, ficando o número de rapazes a ser o dobro do número de raparigas.

Sejam x o número de rapazes e y o número de raparigas que se inscreveram inicialmente nessa modalidade do desporto escolar.

Escreve um sistema de equações, com incógnitas x e y , que permita determinar o número de rapazes e o número de raparigas que se inscreveram inicialmente nessa modalidade do desporto escolar.

Não resolvas o sistema.

16. Na Figura 9, está representado um painel formado por seis azulejos quadrados todos iguais. Em cada azulejo pintou-se um quadrado cinzento cujas diagonais são paralelas aos lados do azulejo e se intersectam no centro deste.

Os quadrados cinzentos são geometricamente iguais e foram numerados de 1 a 6.

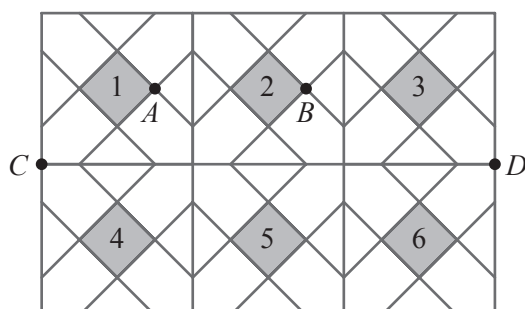


Figura 9

Qual é a imagem do quadrado 5 pela reflexão deslizante de eixo CD e vetor \vec{AB} ?

- A Quadrado 1 B Quadrado 3 C Quadrado 4 D Quadrado 6

17. Na Figura 10, está representado o triângulo $[ABC]$, inscrito numa circunferência de centro no ponto O .

Sabe-se que:

- os pontos D e E pertencem aos segmentos de reta $[AC]$ e $[BC]$, respetivamente;
- as retas AB e DE são paralelas;
- a amplitude do arco AB é 110° ;
- $\widehat{CBA} = 85^\circ$.

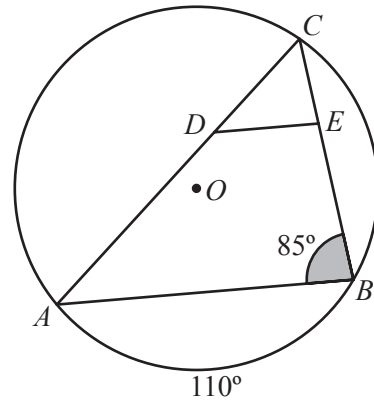


Figura 10

- 17.1. Determina, em graus, \widehat{BAC} .

Apresenta todos os cálculos que efetuares.

- 17.2. Qual das seguintes igualdades é verdadeira?

A $\frac{\overline{CE}}{\overline{CD}} = \frac{\overline{EB}}{\overline{DA}}$

B $\frac{\overline{CE}}{\overline{CD}} = \frac{\overline{DA}}{\overline{EB}}$

C $\frac{\overline{CE}}{\overline{CD}} = \frac{\overline{EB}}{\overline{CA}}$

D $\frac{\overline{CE}}{\overline{CD}} = \frac{\overline{CA}}{\overline{EB}}$

Se quiseres completar ou emendar alguma resposta, utiliza este espaço.

Caso o utilizes, não te esqueças de identificar claramente o item a que se refere cada uma das respostas completadas ou emendadas.

FIM DA PROVA

COTAÇÕES (Caderno 2)

Item													
Cotação (em pontos)													
7.1.	7.2.	8.	9.	10.	11.	12.	13.	14.	15.	16.	17.1.	17.2.	
4	6	3	6	3	6	6	6	6	4	3	6	3	62

TOTAL (Caderno 1 + Caderno 2)	100
--------------------------------------	------------